

横浜みなと博物館 みなとのワクワク!!ワークシート

小学校	年	組	名前：	月	日
-----	---	---	-----	---	---

【わたしたちのくらしと貿易】

展示「横浜港統計」、「専用ふ頭の荷役」、「港の見えるキッチン」をよく見て答えよう

- ① 2000 年から現在まで、横浜港からたくさん輸出されているものはなんでしょう。1 位から 3 位までをさがして下の図の に番号を書きこんでみましょう

1 位の品物が
わかったら、
の中に 1 と
かこう



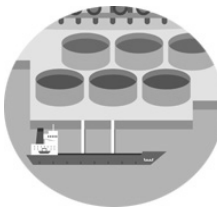
<input type="checkbox"/> 自動車	<input type="checkbox"/> ペンキなどの塗料
<input type="checkbox"/> 工場でつかう機械	<input type="checkbox"/> ゴム製品
<input type="checkbox"/> 電気機械	<input type="checkbox"/> リサイクル資材
<input type="checkbox"/> 自動車の部品	
<input type="checkbox"/> 重油	<input type="checkbox"/> 鋼材
<input type="checkbox"/> 金属くず	

- ② わたしたちの生活にかかせないエネルギーと原材料のほとんどは外国から輸入されています。それぞれ関係するものどうしを線でむすんでみましょう


港の施設や船と輸入されているエネルギーや原材料をむすんでみましょう	輸入されているエネルギーや原材料と、わたしたちの生活をむすんでみましょう
-----------------------------------	--------------------------------------



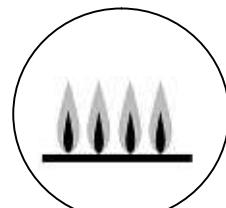
石油



液化天然ガス (LNG)



鉄鉱石



- ③ 四角に入る数字を展示の中からさがしてみましょう

輸出入される品物の % が船を使って運ばれています